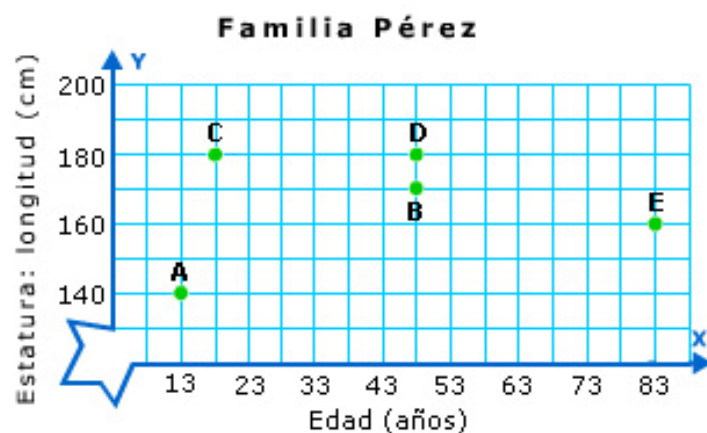


1º E.S.O.

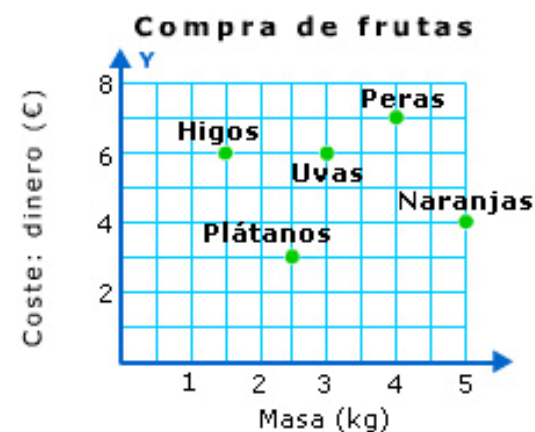
Cambio y relaciones

Lectura: COMPRA DE LA FRUTA

La familia Pérez la componen cinco miembros. Antonio y Susana, que se conocieron acabando los estudios de licenciatura y tienen la misma edad. Tienen dos hijos; Manuel, el mayor, que siempre está escuchando música y tiene la misma estatura que su padre, y Olga, que es una buena nadadora. Con ellos vive el abuelo, Juan, que se encarga de casi todo. Hoy ha ido al mercado y entre otras cosas, ha comprado la fruta que necesitaban.

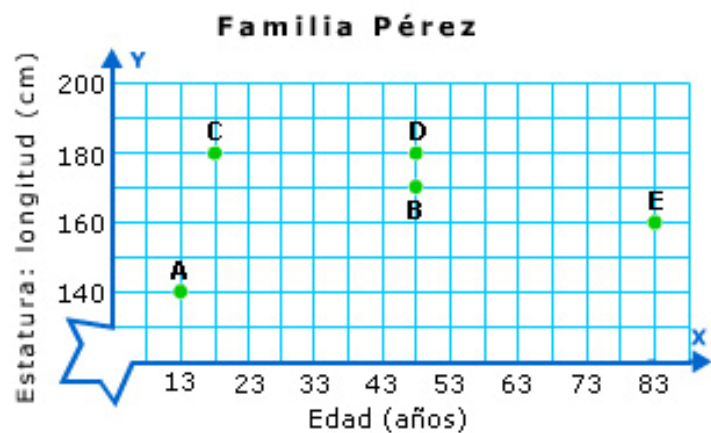


(Gráfica 1)



(Gráfica 2)

1. Fíjate en la gráfica 1 y señala si son verdaderas o falsas las afirmaciones siguientes:



(Gráfica 1)

1 En el eje X se representa la altura en centímetros.

 V F

2 En el eje Y se representan los años.

 V F

3 En el eje X se representa la edad en años.

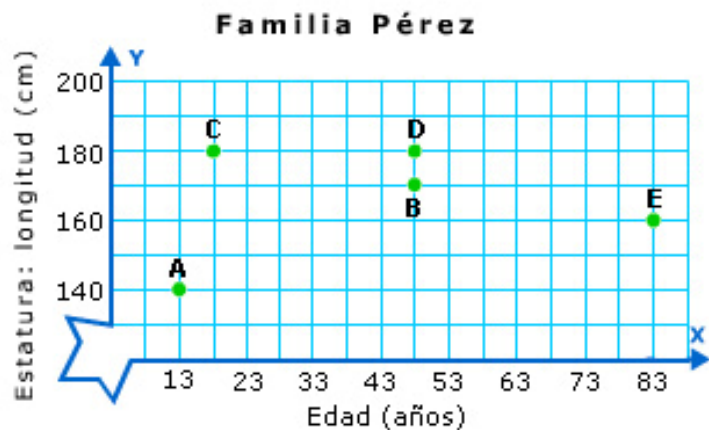
 V F

4 En el eje Y se representa la estatura en centímetros.

 V F

- 2. Lee con atención el texto y fíjate en la gráfica 1. Arrastra cada letra al nombre del miembro familiar que le corresponde.

La familia Pérez la componen cinco miembros. Antonio y Susana que se conocieron acabando los estudios de licenciatura y tienen la misma edad. Tienen dos hijos; Manuel, el mayor, que siempre está escuchando música y tiene la misma estatura que su padre y Olga, que es una buena nadadora. Con ellos vive el abuelo, Juan, que se encarga de casi todo. Hoy ha ido al mercado y entre otras cosas, ha comprado la fruta que necesitaban.



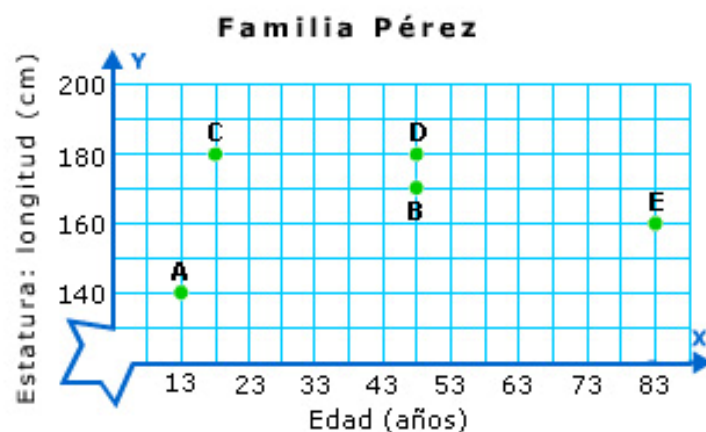
(Gráfica 1)

▶	Antonio	<input type="text"/>
▶	Juan	<input type="text"/>
▶	Manuel	<input type="text"/>
▶	Olga	<input type="text"/>
▶	Susana	<input type="text"/>

<input type="text" value="A"/>	<input type="text" value="C"/>	<input type="text" value="B"/>
<input type="text" value="D"/>	<input type="text" value="E"/>	

3. Completa el texto con las palabras y números apropiados:

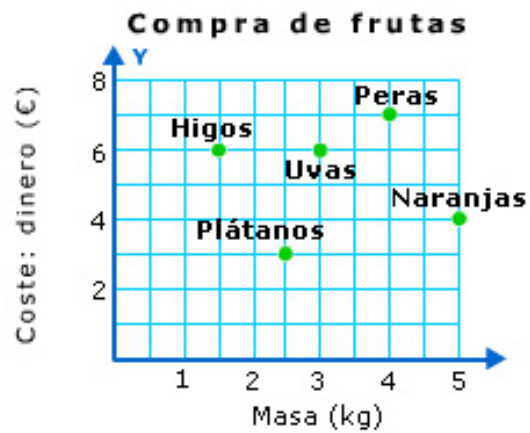
La familia Pérez la componen cinco miembros. Antonio y Susana que se conocieron acabando los estudios de licenciatura y tienen la misma edad. Tienen dos hijos; Manuel, el mayor, que siempre está escuchando música y tiene la misma estatura que su padre y Olga, que es una buena nadadora. Con ellos vive el abuelo, Juan, que se encarga de casi todo. Hoy ha ido al mercado y entre otras cosas, ha comprado la fruta que necesitaban.



(Gráfica 1)

El padre de familia es ; tiene años y una de m. Susana, la , tiene años y mide 170 . El hijo mayor, , mide cm y tiene años. tiene años y mide 140 cm. Por último, el mide m y su edad es de 83 años.

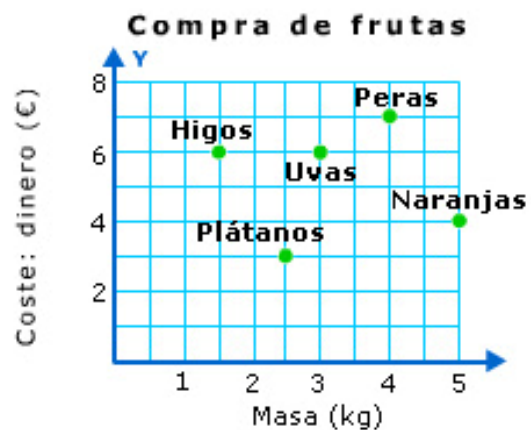
- 4. Fíjate en la gráfica 2 y contesta: ¿qué magnitud y en qué unidades se representa en el eje X? Señala una de las respuestas dadas. Sólo una es correcta.



(Gráfica 2)

- Los tipos de frutas.
- Los kilogramos.
- El dinero en euros.
- La masa en kilogramos.

- 5. ¿Qué magnitud se representa en el eje Y? ¿En qué unidades?
Señala si son verdaderas o falsas las afirmaciones siguientes:



(Gráfica 2)

En el eje Y se representa la masa en kilogramos.

V

F

En el eje Y se representa el dinero en euros.

V

F

En el eje Y se representan los tipos de fruta.

V

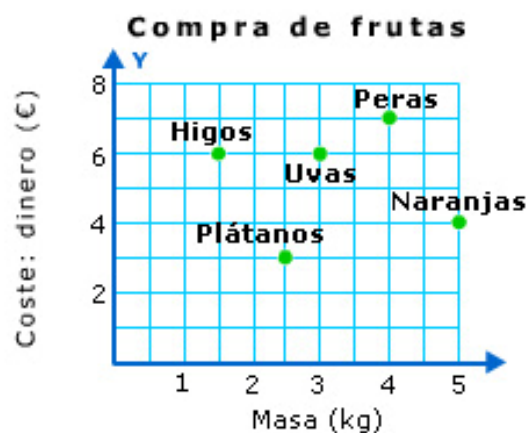
F

En el eje Y se representa el precio/kg de cada tipo de fruta.

V

F

6. Señala si es verdadera (V) o falsa (F) cada una de las siguientes afirmaciones.



(Gráfica 2)

Se han comprado 3 kg de uvas y han costado 6 €.

V F

Se han pagado 5 € por 4 kg de naranjas.

V F

Se han comprado 1,5 kg de higos y se han pagado 6 €.

V F

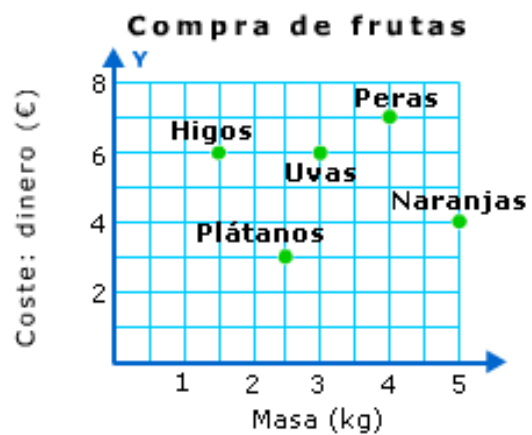
Se han pagado 4 € por las peras.

V F

Se han comprado 2,5 kg de plátanos.

V F

7. Representa los datos de la gráfica en una tabla.

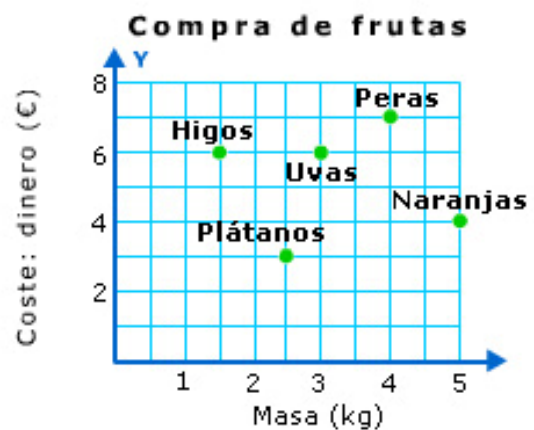


(Gráfica 2)

Completa la siguiente tabla:

Producto	Masa (kg)	Coste (€)
Higos	<input type="text"/>	<input type="text"/>
Plátanos	<input type="text"/>	<input type="text"/>
<input type="text"/>	3	<input type="text"/>
Peras	<input type="text"/>	<input type="text"/>
<input type="text"/>	<input type="text"/>	4

8. ¿A qué precio hemos pagado el kilogramo de uvas?

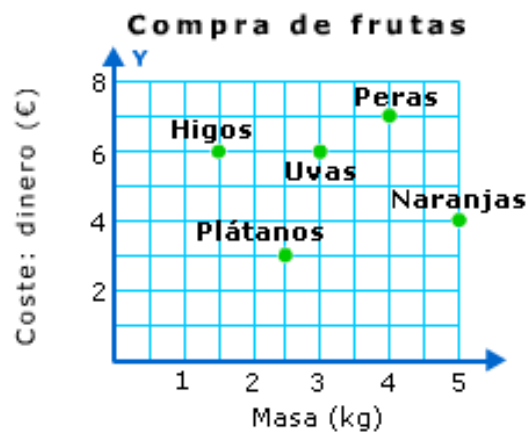


Precio: €/kg

(Gráfica 2)

■ 9. ¿Cuál es el producto más caro? ¿Cuál es el producto más barato?

Ayúdate completando la tabla siguiente:



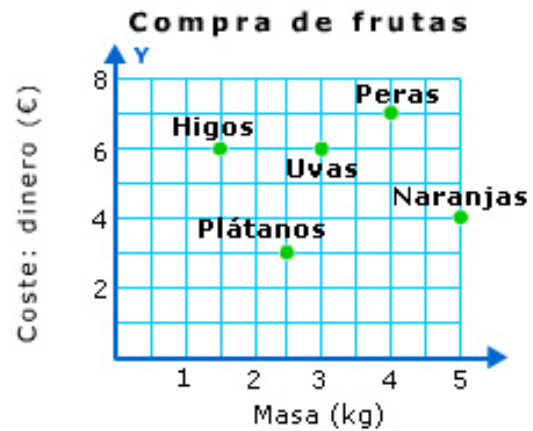
(Gráfica 2)

Producto	Masa (kg)	Coste (€)	Precio (€/kg)
Higos	<input type="text"/>	<input type="text"/>	<input type="text"/>
Plátanos	<input type="text"/>	<input type="text"/>	<input type="text"/>
Uvas	<input type="text"/>	<input type="text"/>	<input type="text"/>
Peras	<input type="text"/>	<input type="text"/>	<input type="text"/>
Naranjas	<input type="text"/>	<input type="text"/>	<input type="text"/>

- El producto más caro es: a un precio de €/kg.

- El producto más barato es: a un precio de €/kg.

- 10. ¿Cuánto dinero ha pagado Juan por toda la fruta comprada? Señala una de las respuestas dadas. Sólo una es correcta.



(Gráfica 2)

- 26 €
- 16 €
- 9,75 €
- Ninguna de las anteriores es correcta.