

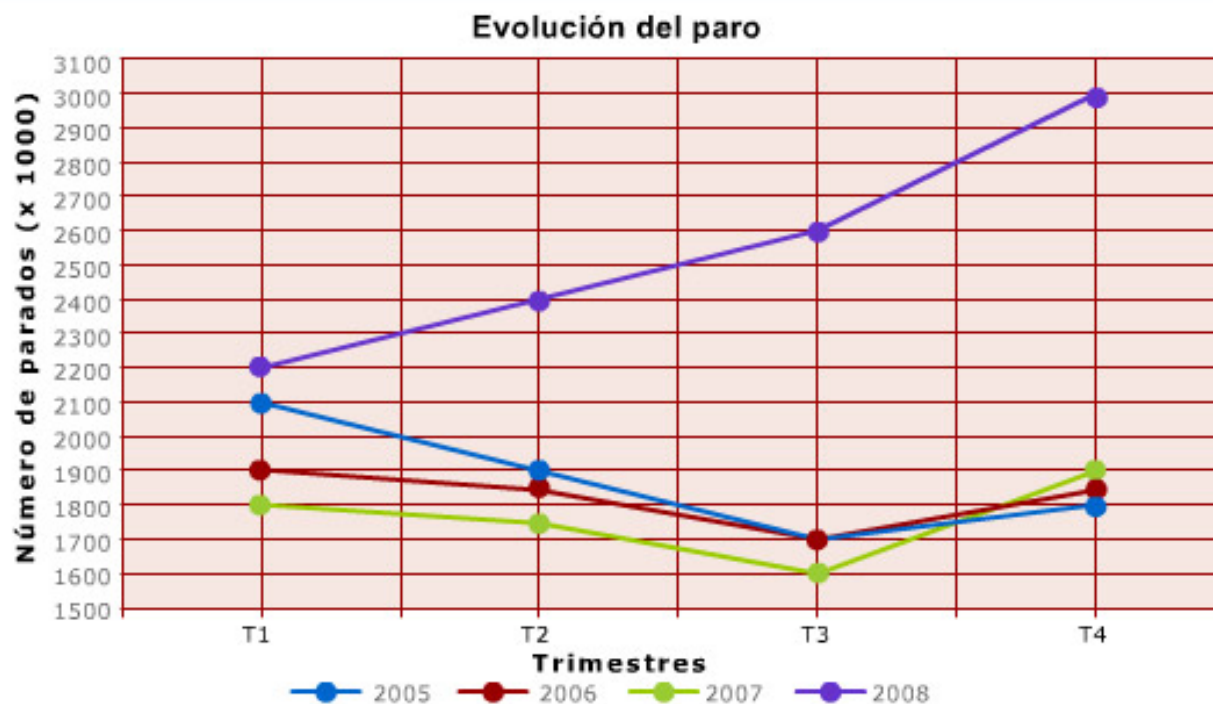
4º E.S.O.

Incertidumbre

Lectura: EVOLUCIÓN DEL PARO

El ministro de Economía de Abeland ha comunicado en rueda de prensa que los datos del paro, registrados en el último trimestre del año 2008, han hecho que éste haya pasado a ser la principal preocupación de todos los ciudadanos y del Gobierno. El ministro se ha comprometido a poner todos los medios para ayudar a los desempleados y ha anunciado un conjunto de medidas que tendrán un impacto positivo en términos de empleo.

Los datos de la evolución del paro en Abeland se recogen en las gráficas siguientes:



Observa con atención los datos y contesta a las siguientes preguntas:

1. Observa con atención los datos y contesta a las siguientes preguntas:

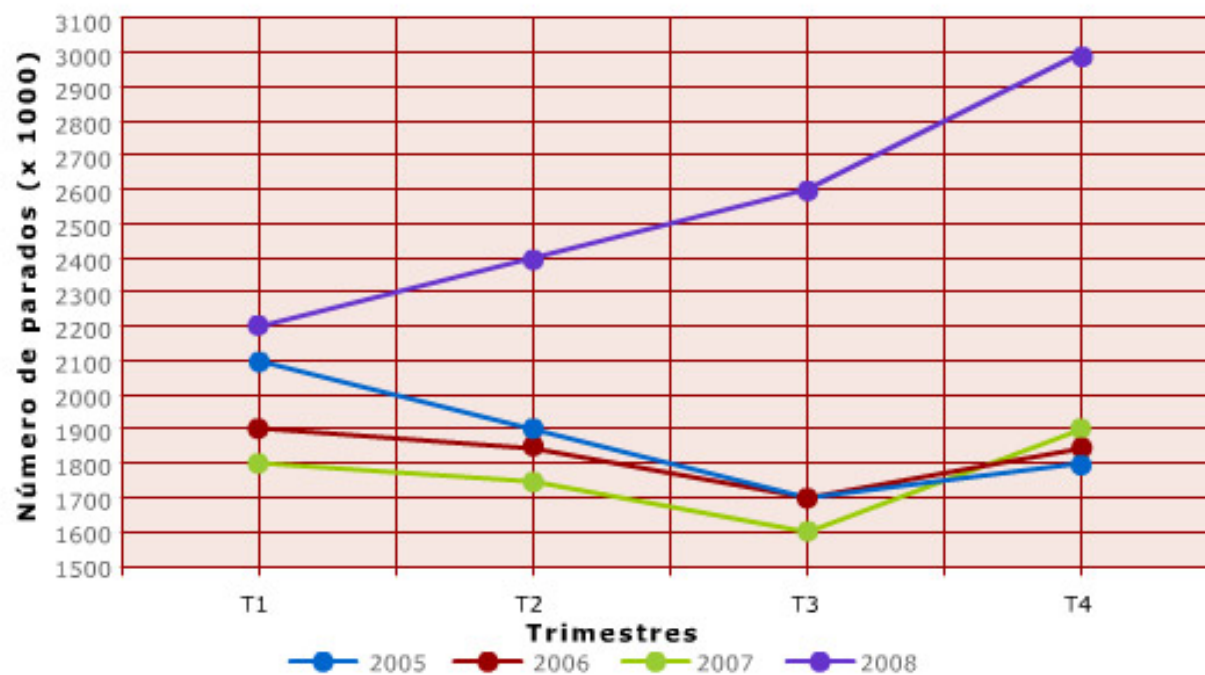
¿Qué magnitud se representa en el eje X?

Tiempo

¿En qué unidades?

Trimestres

Evolución del paro



2. Observa con atención los datos y contesta a las siguientes preguntas:

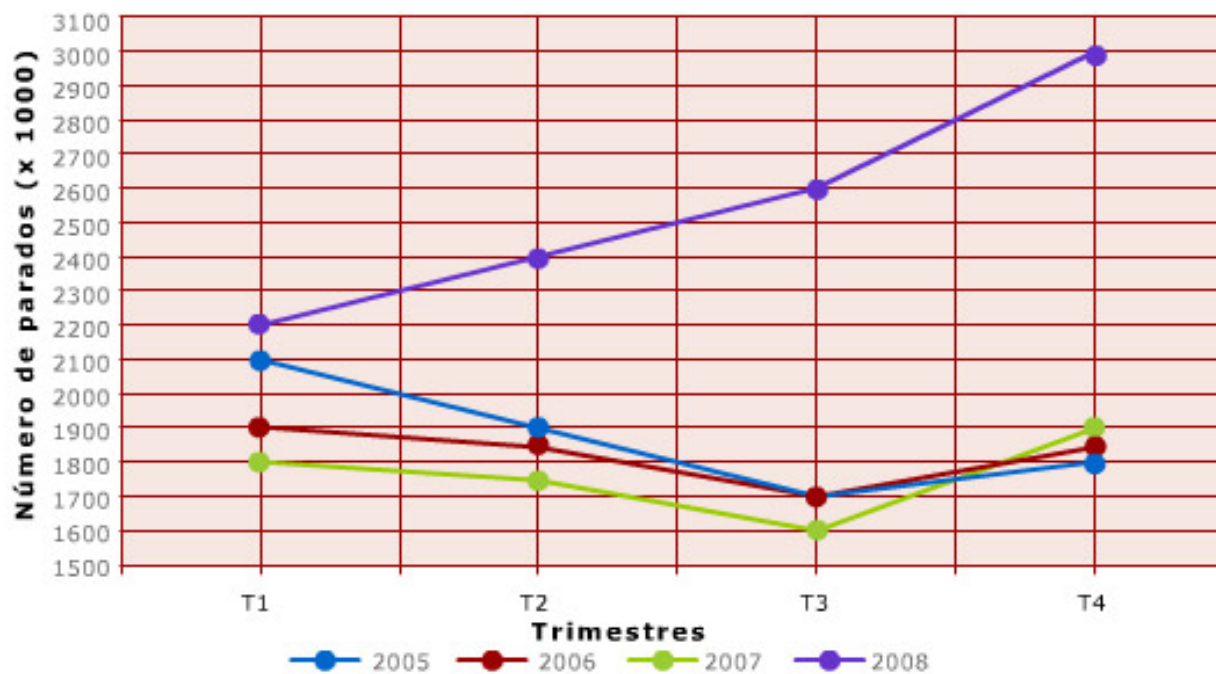
¿Qué magnitud se representa en el eje Y?

número de parados

¿En qué unidades?

miles de personas

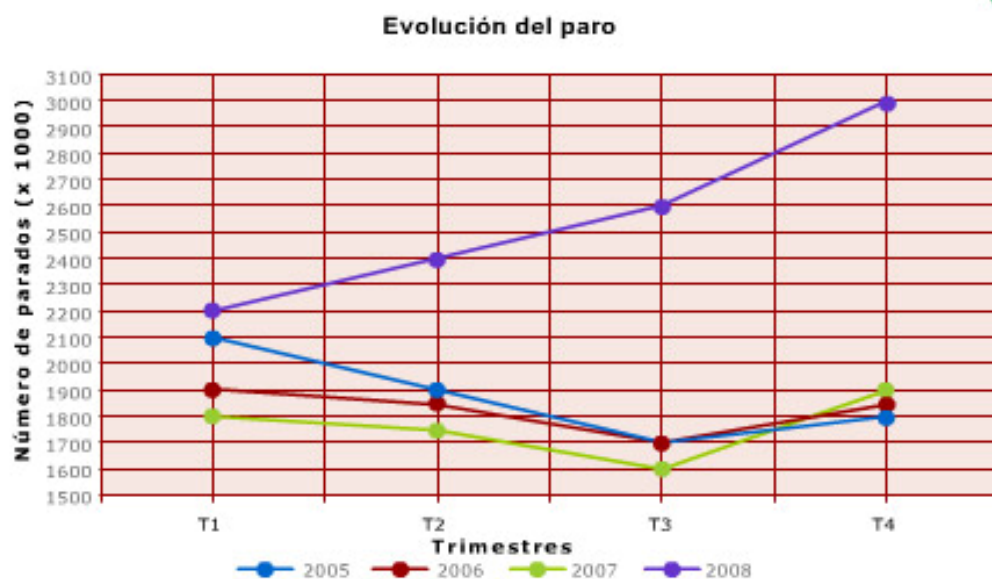
Evolución del paro



- **3. Elige la respuesta que creas apropiada para explicar lo que significa evolución del paro.**
Sólo una es correcta.

- La diferencia de parados entre distintos lugares.
- Transformación o cambio del número de parados de un lugar.
- El número de parados de un lugar.
- El número de parados que hay en una fecha determinada.

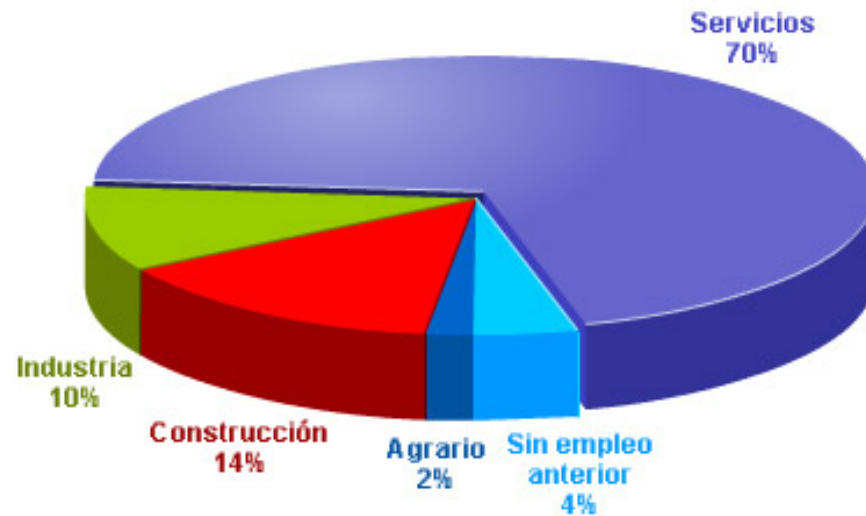
6. Observa con atención la gráfica y elige la afirmación correcta:
Sólo una afirmación es cierta.



- ✓ Las líneas que representan la evolución del paro en los años 2005, 2006 y 2007 tienen una trayectoria similar y la del 2008 no.
- Las líneas que representan la evolución del paro en los cuatro años tienen una trayectoria similar.
- Las líneas que representan la evolución del paro en los cuatro años tienen una trayectoria totalmente distinta unas de otras.
- Ninguna de las afirmaciones anteriores es cierta.

En un medio de comunicación han publicado los datos sobre el número de parados del último trimestre del 2008 con el siguiente gráfico:

■ 8. Elige el título más apropiado para el gráfico presentado:



Distribución del paro por sectores.

Distribución del paro en el último trimestre de 2008.

Distribución del porcentaje de parados por sectores.

Distribución del porcentaje de paro en el año 2008.

